

Poules lapins



Un fermier a des poules et des lapins.

En regardant tous les animaux, il voit


5 têtes et 14 pattes.

Combien le fermier a-t-il de lapins et combien a-t-il de poules ?

Recherche : tu peux utiliser le matériel, dessiner, faire un schéma, calculer

Ecris ta phrase de réponse. N'oublie pas de la communiquer à un camarade :

Canards vaches



Jean le fermier compte ses vaches et ses canards. En tout, il trouve 7 animaux et 20 pattes.

Combien a-t-il de vaches et combien a-t-il de canards ?

Recherche : tu peux utiliser le matériel, dessiner, faire un schéma, calculer

Ecris ta phrase de réponse. N'oublie pas de la communiquer à un camarade.

Sortie en mer à bord du Robinson

La capitaine du bateau compte les personnes qui montent à bord.

En tout elle trouve 20 passagers.

Il y a 10 enfants de plus que d'adultes.

Combien y a-t-il d'enfants, combien y a-t-il d'adultes sur le bateau ?

Recherche : tu peux dessiner, faire un schéma, calculer

Ecris ta phrase de réponse. N'oublie pas de la communiquer à un camarade.

L'anniversaire de Pauline



Pour son anniversaire Pauline a accroché 40 ballons, des rouges et des verts. Il y a 10 ballons rouges de plus que de ballons verts.

Combien y a-t-il de ballons verts ?

Recherche : tu peux utiliser le matériel, dessiner, faire un schéma, calculer

Ecris ta phrase de réponse. N'oublie pas de la communiquer à un camarade.

Tous les nombres à 2 chiffres

Cherche tous les nombres à deux chiffres que tu peux écrire avec les chiffres :
1, 2 et 3.

Recherche : exemple, tu peux écrire le nombre 213.

Ecris tes réponses. N'oublie pas de les communiquer à un camarade.

Les costumes du clown



Pour se déguiser, un clown dispose de :

- 2 chapeaux (un rouge, un bleu) ;
- 2 vestes (une violette, une jaune) ;
- 3 pantalons (un marron, un noir, un vert)

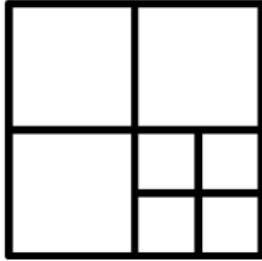
Combien de costumes*différents le clown peut-il faire ?

(* un costume, c'est un chapeau, une veste et un pantalon.)

Recherche : tu peux utiliser le matériel, dessiner, faire un schéma, calculer ...

Ecris ta phrase de réponse. N'oublie pas de la communiquer à un camarade.

Combien de carrés ?

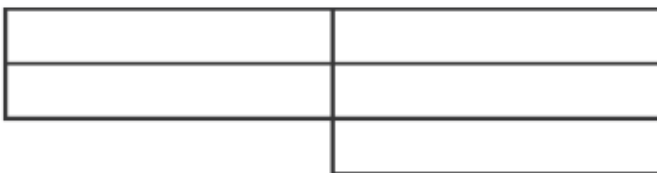


Combien de carrés y a-t-il dans cette figure ?

*Recherche : Observe bien la figure géométrique ci-dessus et trouve **le plus de** carrés possible.*

Ecris ta phrase de réponse. N'oublie pas de la communiquer à un camarade.

Combien de rectangles ?



Combien de rectangles y a-t-il dans cette figure ?

*Recherche : Observe bien la figure géométrique si dessus et trouve **le plus de** rectangles possible.*

Ecris ta phrase de réponse. N'oublie pas de la communiquer à un camarade.

Combien de triangles ?

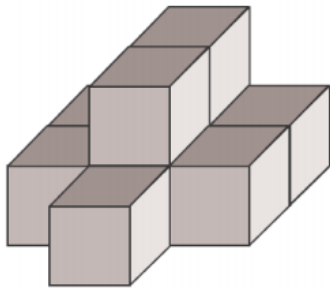


Combien y a-t-il de triangles en tout ?

*Recherche : Observe bien la figure géométrique ci-dessus et trouve **le plus de triangles possible**.*

Ecris ta phrase de réponse. N'oublie pas de la communiquer à un camarade.

Combien de cubes ?



Combien faut-il empiler de cubes pour réaliser cette construction ?

Recherche : n'oublie pas les cubes cachés

Ecris ta phrase de réponse. N'oublie pas de la communiquer à un camarade.
